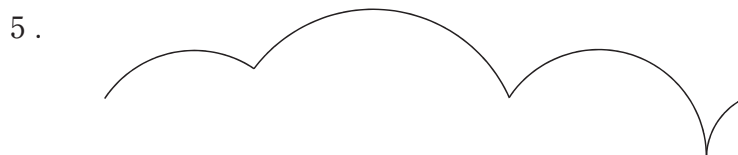
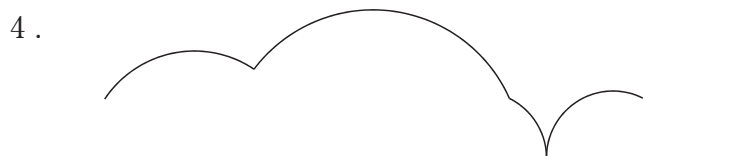
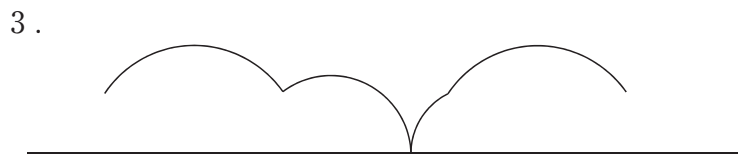
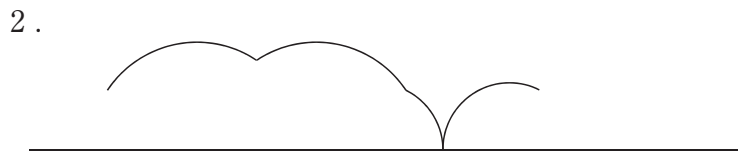
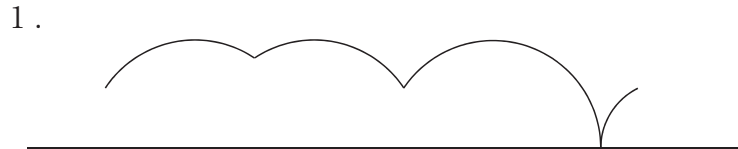


図のように、台形が直線上を滑ることなく矢印の方向に1回転したとき、台形の辺上の点Pが描く軌跡として妥当なのはどれか。



警察官採用試験
 I類及び武道・体育指導I類
 教養試験
 出題分野 判断推理
 正答番号 2